




الأعداد من 1 إلى 5



1/ صلِّ كُلَّ رَقْمٍ بِمَا يُنَاسِبُهُ مِنْ رَسْمٍ:



2/ لَوِّنْ بِقَدْرِ الرَّقْمِ الْمَكْتُوبِ:



2



4



1



5



3

3 / لَوْنِ الْقَرِيصَاتِ أَسْفَلَ كُلِّ قَبْعَةٍ بِقَدْرِ الْأَهْلَةِ الْمَرْسُومَةِ:



4 / لَاحِظْ ثُمَّ ارْسُمْ قَرِيصَاتِ بِقَدْرِ الْأَصَابِعِ وَاكْتُبِ الرَّقْمَ:



3

ثلاثة



5

خمسة



1

واحد



4

أربعة




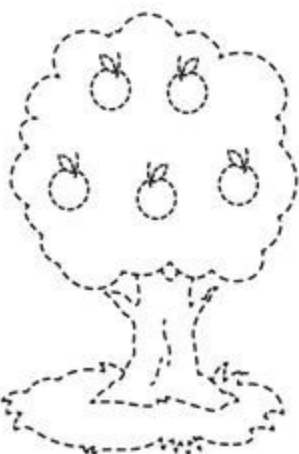


2

اثنان

5 / اُكْتُبْ عَدَدَ الشُّمُوعِ تَحْتَ كُلِّ كَعْكَةٍ:



6 / اكْمِلِ الرَّسْمَ وَلَوْنَهُ ثُمَّ اكْتُبْ عَدَدَ التَّفَاحَاتِ فِي كُلِّ شَجَرَةٍ:



7 / لَوْنِ سُلْحَفًا وَاحِدَةً وَثَلَاثَ سَمَكَاتٍ وَخَمْسَ حَلَزُونَاتٍ:





# الأعداد من 1 إلى 9

1/ اربط كل مجموعة بالعدد المناسب:

8

3

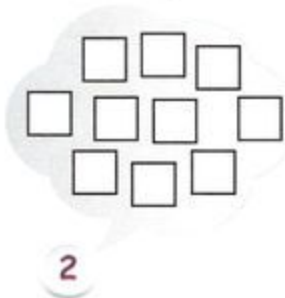
9

7


5



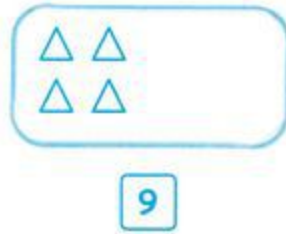
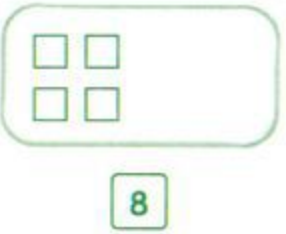
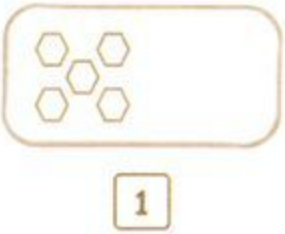
2/ لون الأشكال بقدر العدد المكتوب:



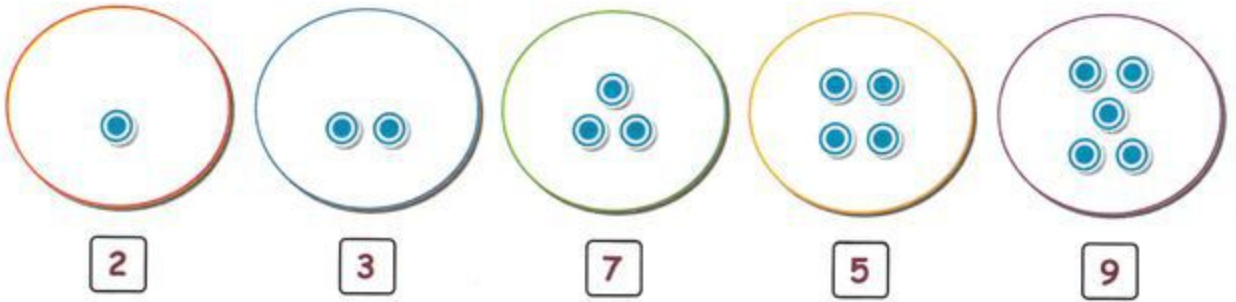
3/ أشطب الفواكه الزائدة في كل مجموعة:



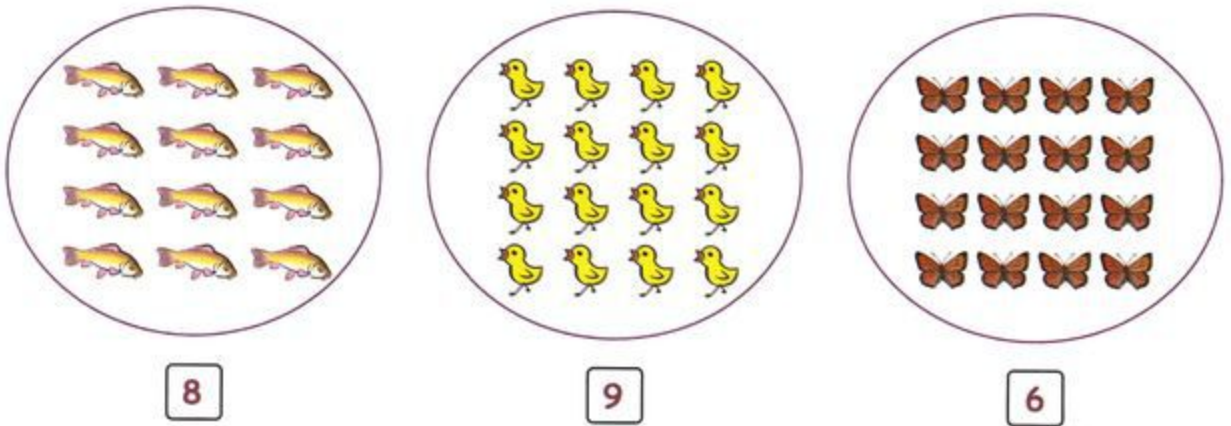
4/ أشطب الزائد أو ارسم الناقص:



5 / ارسم القرينات الناقصة في كل مجموعة:



6 / احط حيوانات بقدر العدد المكتوب:



7 / اكتب عدد الأشياء أسفل كل مجموعة:



8 / اكمل كتابة الأرقام على عربات القطار:



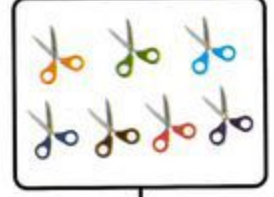





العدد 0




1/ أَشْطَبْ 5 أَشْيَاءٍ فِي كُلِّ مَجْمُوعَةٍ، ثُمَّ اكْتُبْ عَدَدَ الْأَشْيَاءِ الْبَاقِيَةِ فِي كُلِّ بَطَّاقَةٍ:




2/ ارْضُمِ قُرَيْصَاتٍ بِقَدْرِ الْعَدَدِ الْمَكْتُوبِ فِي الْبَطَّاقَاتِ:




7



0



9



5

3/ أَحْسِبْ عَدَدَ الْأَلْعَابِ ثُمَّ اكْتُبْهُ فِي الْجَدْوَلِ:




الألعاب	العدد
دُمَى	
دِبْيَةٌ	
سِيَّارَاتٌ	
كُرَاتٌ	
طَائِرَاتٌ	

+

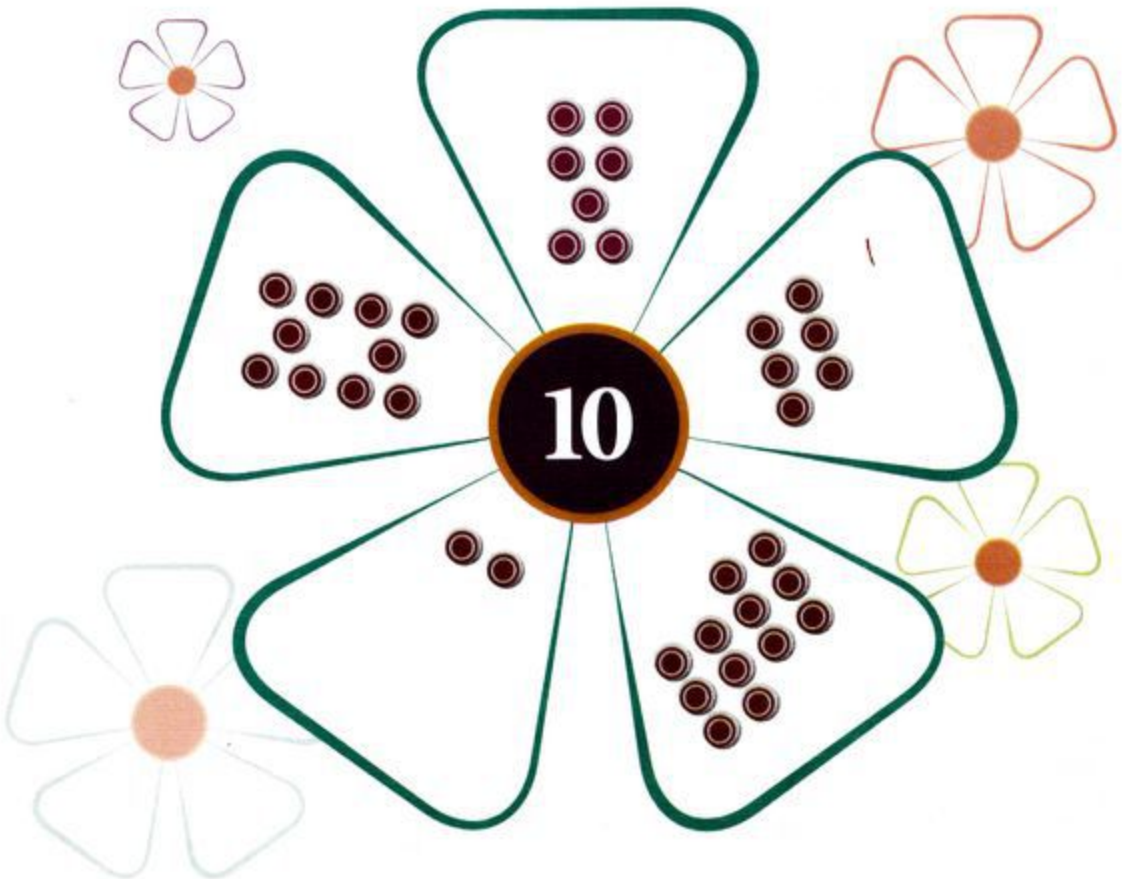
العدد 10

-


// أَحِطْ 10 نُجُوم:




// 2/ اجْعَلْ فِي كُلِّ بَيْتَةٍ 10 قَرِيصَاتٍ (أَرْسِمِ النَّاقِصَ أَوْ اشْطِبِ الزَّائِدَ):




3 / عَبِّرْ عَنْ عَدَدِ الْأَشْيَاءِ فِي كُلِّ بَطَّاقَةٍ بِكِتَابَةِ جَمْعِيَّةٍ:




$$\boxed{\cdot} + \boxed{\cdot} = 10$$



$$\boxed{\cdot} + \boxed{\cdot} = 10$$



$$\boxed{\cdot} + \boxed{\cdot} = 10$$

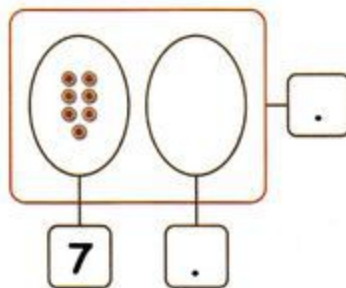
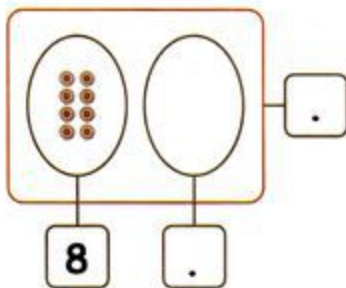
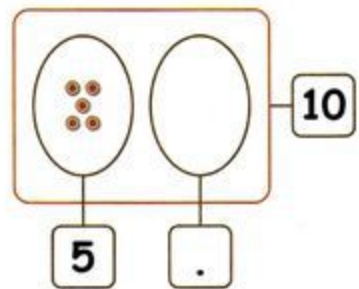
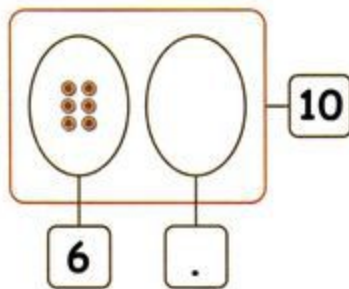
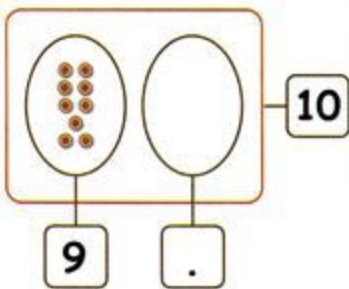


$$\boxed{\cdot} + \boxed{\cdot} = \boxed{\cdot}$$




$$\boxed{\cdot} + \boxed{\cdot} = \boxed{\cdot}$$

4 / أَكْمِلِ النَّاقِصَ حَتَّى يَصِيرَ فِي كُلِّ بَطَّاقَةٍ الْعَدَدُ 10:

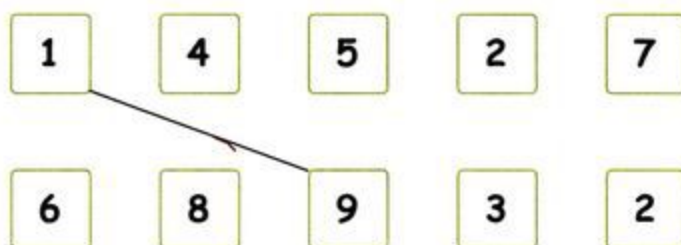




5 / لَوْنِ الْمَجْمُوعِ 10:



6 / اِرْبِطْ كُلَّ بِطَاقَتَيْنِ يَكُونُ مَجْمُوعُهُمَا 10:



$1 + 9 = 10$        $9 + \underline{\quad} = \underline{\quad}$

\_\_\_\_\_


\_\_\_\_\_

\_\_\_\_\_

\_\_\_\_\_

\_\_\_\_\_

7 / اَكْمِلِ لِلْحُصُولِ عَلَى الْمَجْمُوعِ 10:



8 / ضَعْ كُلَّ 10 أَشْيَاءٍ فِي مَجْمُوعَةٍ:



أَكْمِلْ: سَكَّلْتُ ..... مَجْمُوعَاتٍ مِنْ 10 حَبَّاتِ بَطَاطِسٍ، إِذَا يُوجَدُ 20 حَبَّةَ بَطَاطِسٍ.




أَكْمِلْ: سَكَّلْتُ ..... مَجْمُوعَاتٍ مِنْ 10 زَهْرَاتٍ، إِذَا يُوجَدُ ..... زَهْرَةً.



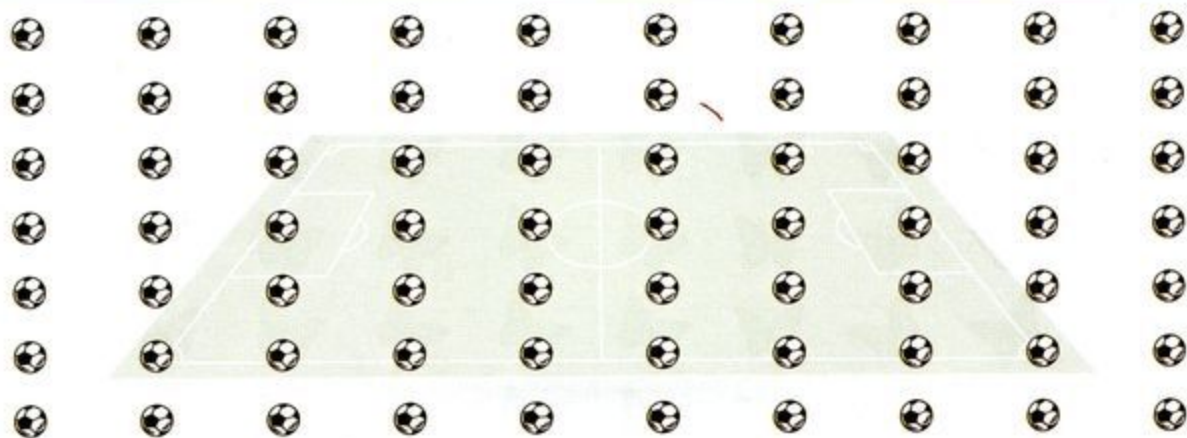
أَكْمِلْ: سَكَّلْتُ ..... مَجْمُوعَاتٍ مِنْ 10 فَرِاشَاتٍ، إِذَا يُوجَدُ ..... فَرِاشَةً.



أَكْمِلْ: سَكَّلْتُ ..... مَجْمُوعَاتٍ مِنْ 10 حَبَّاتِ خَلْوَى، إِذَا يُوجَدُ ..... حَبَّةَ خَلْوَى.




أَكْمِلْ: شَكَّلْتُ ..... مَجْمُوعَاتٍ مِنْ 10 جَزَرَاتٍ، إِذَا يُوجَدُ ..... حَبَّةَ جَزَرٍ.



أَكْمِلْ: شَكَّلْتُ ..... مَجْمُوعَاتٍ مِنْ 10 كُرَاتٍ، إِذَا يُوجَدُ ..... كُرَّةً.

9 / أَكْمِلْ كِتَابَةَ الْأَعْدَادِ:





أصغر - أكبر

1 / اربط كل عدد بكتابته:

سبعة

ثلاثة

ستة

واحد

عشرة

خمسة


أربعة

صفر

ثمانية

اثنان

تسعة



2 / لاحظ ثم أكمل الناقص:



خمسة

.....

ثلاثة

اثنان

.....

.....



.....



.....



ثمانية



سبعة



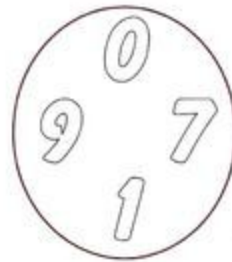

.....

3 / ضَعِ العَلَامَةَ ✗ تَحْتِ المَجْمُوعَةِ الَّتِي بِهَا أَكْبَرُ

عَدَدٍ مِنَ البَالُونَاتِ:



4 / لَوِّنْ أَصْغَرَ عَدَدٍ فِي كُلِّ مَجْمُوعَةٍ:



5 / اَكْتُبِ عَدَدَ الأشْكَالِ ثُمَّ لَوِّنِ البِطَاقَاتِ الصَّحِيحَةَ:



أصغر من  
أكبر من




أصغر من  
أكبر من



أصغر من  
أكبر من



رَتِّبِ الأَرْقَامَ الَّتِي وَجَدْتَهَا عَلَى هَذَا الشَّرِيطِ مِنَ الأَكْبَرِ إِلَى الأَصْغَرِ:



## + وضعيات جمع او طرح -



• كم عدد كل التلاميذ؟

• عدد كل التلاميذ هو: ..... تلاميذ

1 / ذَهَبَ التَّلَامِيذُ فِي رِحْلَةٍ مَدْرَسِيَّةٍ:

• كم عدد الأولاد؟

• عدد الأولاد هو ..... أولاد.

• كم عدد البنات؟

• عدد البنات هو: ..... بنت.

2 / أَكْتُبْ عَدَدَ كُلِّ نَوْعٍ مِنَ السَّمَكِ:

.....  .....

أحسب عدد الأسماك في الحوض

عدد الأسماك في الحوض هو: ..... سمكات.








- لَوْنُ  بِالْأَحْمَرِ

- لَوْنُ  بِالْأَصْفَرِ

عَدَدُ  هُوَ: ..... زَهْرَاتِ.

عَدَدُ  هُوَ: ..... زَهْرَاتِ.

- أُحْسِبُ عَدَدَ كُلِّ الْأَزْهَارِ:

عَدَدُ كُلِّ الْأَزْهَارِ هُوَ: ..... زَهْرَاتِ.



4/ كَمْ عَدَدُ الْعَصَافِيرِ فَوْقَ الشَّجَرَةِ؟

عَدَدُ الْعَصَافِيرِ فَوْقَ الشَّجَرَةِ هُوَ: ..... عَصَافِيرِ.

• كَمْ عَدَدُ الْعَصَافِيرِ تَحْتَ الشَّجَرَةِ؟

عَدَدُ الْعَصَافِيرِ تَحْتَ الشَّجَرَةِ هُوَ: ..... عُصْفُورًا.

• كَمْ عَدَدُ كُلِّ الْعَصَافِيرِ؟

عَدَدُ كُلِّ الْعَصَافِيرِ هُوَ: ..... عُصْفُورًا.



5/ أَكْمِلِ الرَّسْمَ حَتَّى يَصِيرَ فِي السَّلَّةِ

6 بُزْتَقَالَاتٍ وَ 5 إِجَاصَاتٍ.

- أُحْسِبُ عَدَدَ كُلِّ الْفَوَاكِهِ فِي السَّلَّةِ:

عَدَدُ الْفَوَاكِهِ فِي السَّلَّةِ هُوَ: ..... فَكِهَةً.

الأمُّ

الأبُّ

6 / أعطى الأبُّ لأحمدَ 5 قطعَ نقديَّةٍ

وأعطتهُ أمُّه 3 قطعَ نقديَّةٍ.

كم قطعَةً نقديَّةً صارت عندَ أحمدَ؟

- مثِلِ القطعَ النُقديَّةةِ ثمَّ احسُب.

- صارَ عندَ أحمدَ ..... قطعَ نقديَّةٍ.

7 / عندَ خديجةَ 10 حَبَاتِ حلوى

أكلت 3 حَبَاتٍ.

كم حَبَّةَ حلوى بقيت عندَ خديجةَ؟

- مثِلِ حَبَاتِ الحلوى ثمَّ اشطِبِ التي أكلتها

- بقيَ عندَ خديجةَ ..... حَبَاتِ حلوى.

رَبِحَ

عِنْدَهُ

8 / عندَ سميرٍ 6 كُرَيَاتٍ

لعبَ فَرَبِحَ 4 كُرَيَاتٍ.

كم كُرَيَّةً صارت عندَ سميرٍ؟

- مثِلِ الكُرَيَاتِ ثمَّ احسُب.

- صارَ عندَ سميرٍ ..... كُرَيَاتٍ.

9 / عندَ رامي 12 كُرَيَّةً

لعبَ فَخَسِرَ 5 كُرَيَاتٍ.

كم كُرَيَّةً صارت عندَ رامي؟

- مثِلِ الكُرَيَاتِ ثمَّ اشطِبِ التي خَسِرَهَا.

- صارَ عندَ رامي ..... كُرَيَاتٍ.



# الأعداد إلى 19



1 / أكْمَلْ حَسَبَ الْمِثَالِ:

1	0
1	1
1	2
1	3

--	--	--	--	--	--	--	--	--	--	--	--	--	--	--	--	--	--	--	--	--

--	--	--	--	--	--	--	--	--	--	--	--	--	--	--	--	--	--	--	--	--	--

--	--	--	--	--	--	--	--	--	--	--	--	--	--	--	--	--	--	--	--	--	--

--	--	--	--	--	--	--	--	--	--	--	--	--	--	--	--	--	--	--	--	--	--

--	--	--	--	--	--	--	--	--	--	--	--	--	--	--	--	--	--	--	--	--	--

--	--	--	--	--	--	--	--	--	--	--	--	--	--	--	--	--	--	--	--	--	--

--	--	--	--	--	--	--	--	--	--	--	--	--	--	--	--	--	--	--	--	--	--

--	--	--	--	--	--	--	--	--	--	--	--	--	--	--	--	--	--	--	--	--	--

--	--	--	--	--	--	--	--	--	--	--	--	--	--	--	--	--	--	--	--	--	--

--	--	--	--	--	--	--	--	--	--	--	--	--	--	--	--	--	--	--	--	--	--

--	--	--	--	--	--	--	--	--	--	--	--	--	--	--	--	--	--	--	--	--	--

--	--	--	--	--	--	--	--	--	--	--	--	--	--	--	--	--	--	--	--	--	--

$10 + 0 = 10$

$10 + 1 = \underline{\quad}$

$10 + 2 = \underline{\quad}$

$10 + 3 = \underline{\quad}$

$10 + 4 = \underline{\quad}$

$10 + 5 = \underline{\quad}$

$10 + 6 = \underline{\quad}$

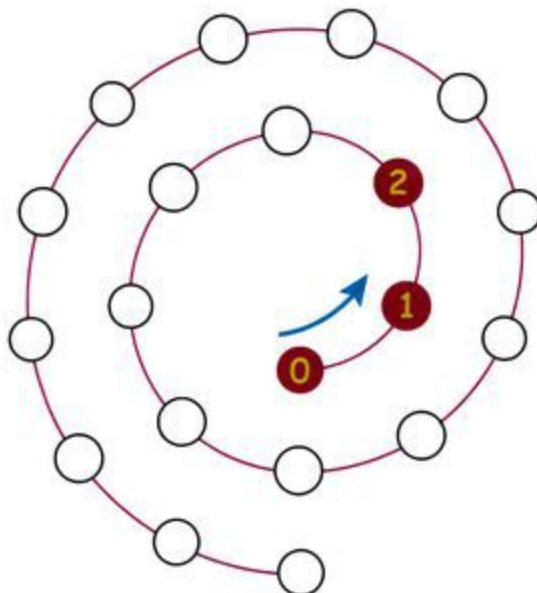
$10 + 7 = \underline{\quad}$

$10 + 8 = \underline{\quad}$

$10 + 9 = \underline{\quad}$

$10 + 10 = \underline{\quad}$

2 / أكْمَلْ كِتَابَةَ الْأَعْدَادِ مِنْ 0 إِلَى 19:





3 / أَكْمِلْ هَذِهِ الْأَشْرَاطَةَ الْعَدَدِيَّةَ بِأَعْدَادٍ مُتتَالِيَةٍ:



4 / ضَعِ هَذِهِ الْأَرْقَامَ فِي مَكَانِهَا: 15 - 13 - 6 - 0 - 18 - 3 - 11 - 9



5 / أَكْمِلِ الْجَدْوَلَ:

.	.	13	14	15	.	17	18	19
أحد عشر	اثنا عشر	.	.	.	سته عشر	.	.	.
$10 + 1$	$10 + \dots$	$\dots + \dots$	$\dots + \dots$	$\dots + \dots$	$\dots + \dots$	$\dots + \dots$	$\dots + \dots$	$\dots + \dots$

6 / اِرْبِطْ كُلَّ كِتَابَةٍ جَمْعِيَّةٍ بِنَتيجَتِهَا:

$$10 + 4$$

$$10 + 6$$

$$10 + 5$$

14

15

16

17

18

19

$$10 + 7$$

$$10 + 9$$

$$10 + 8$$

— مقارنة و ترتيب الأعداد من 0 إلى 19 +

1 / لَوْنِ الْبَطَاقَةِ الصَّحِيحَةَ:

	أَكْثَرُ مِنْ	
11	أَقَلُّ مِنْ	17
	بِقَدْرِ	

	أَكْثَرُ مِنْ	
15	أَقَلُّ مِنْ	8
	بِقَدْرِ	

	أَكْثَرُ مِنْ	
13	أَقَلُّ مِنْ	13
	بِقَدْرِ	

	أَكْثَرُ مِنْ	
7	أَقَلُّ مِنْ	19
	بِقَدْرِ	

2 / أَكْمِلْ كِتَابَةَ الْأَعْدَادِ التَّالِيَةِ مُرْتَبَةً مِنَ الْأَصْغَرِ إِلَى الْأَكْبَرِ:

15	12	14	11	7	13	19	10
7							

3 / أَكْمِلْ كِتَابَةَ الْأَعْدَادِ التَّالِيَةِ مُرْتَبَةً مِنَ الْأَكْبَرِ إِلَى الْأَصْغَرِ:

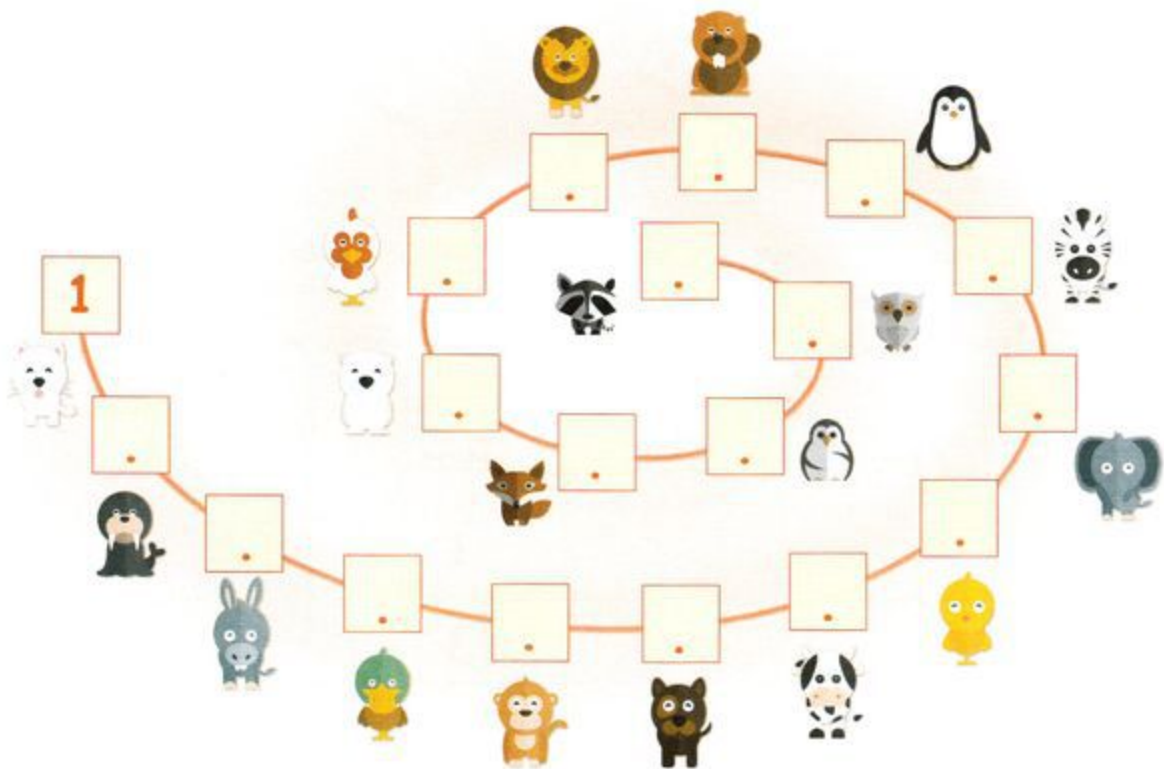
10	17	13	19	8	18	3	16
19							



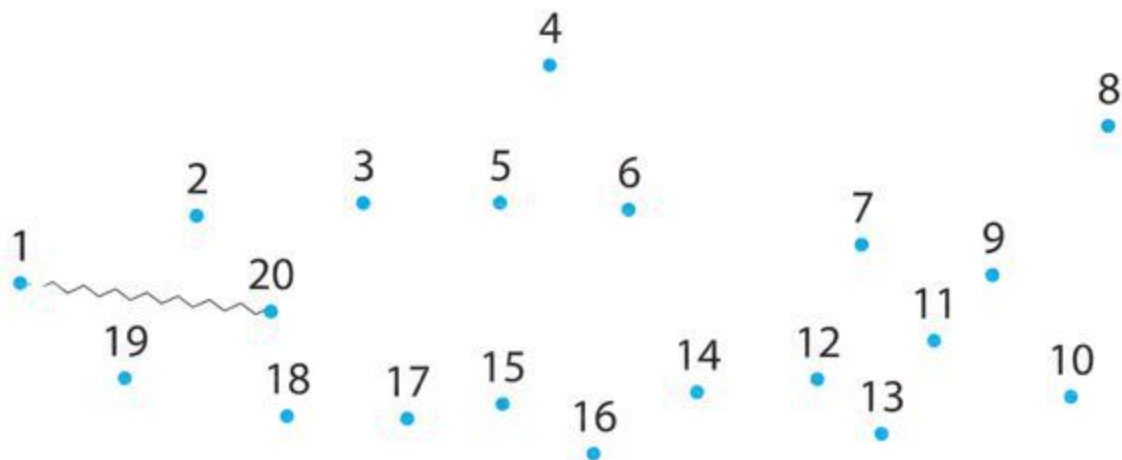
# استراحة ونسلية



1 / أكمل كتابة سلسلة الأعداد:




2 / اربط بين الأعداد بالترتيب لتكتمل الرسم ثم لونه:






# نصف عدد أصغر من 20

1 / لَوْنِ الأَعْدَادِ الرُّوَجِيَّةِ:

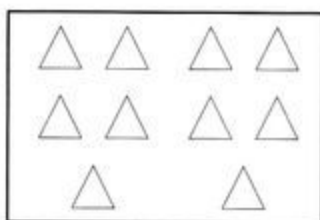


2 / لَوْنِ نِصْفِ الأَشْيَاءِ فِي كُلِّ بِطَاقَةٍ:



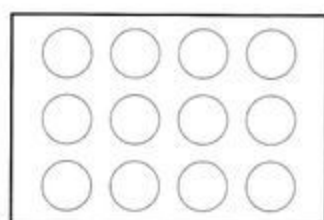
. هُوَ نِصْفُ 16

. هُوَ ضِعْفُ 16



. هُوَ نِصْفُ 10

. هُوَ ضِعْفُ 10

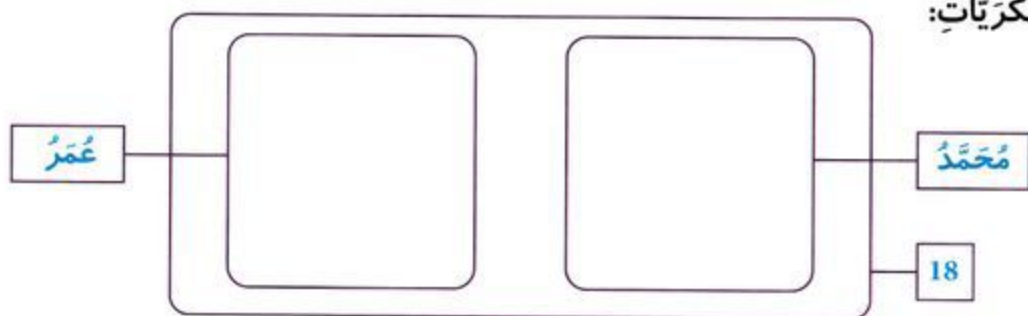


. هُوَ نِصْفُ 12

. هُوَ ضِعْفُ 12

3 / فِي عُلْبَةِ 18 كُرِّيَّةٍ يَتَقَاسَمُهَا مُحَمَّدٌ وَعُمَرُ بِالسَّوِي. مَا هُوَ نَصِيبُ كُلِّ وَاحِدٍ مِنْهُمَا؟

ارْزُمِ الكُرِّيَّاتِ:



يَتَحَصَّلُ مُحَمَّدٌ عَلَى ..... كُرِّيَّاتٍ.

يَتَحَصَّلُ عُمَرُ عَلَى ..... كُرِّيَّاتٍ.

4 / أَكْمِلْ: . هُوَ نِصْفُ 18

. هُوَ ضِعْفُ 18



# الأعداد إلى 39



1 / أَحِطْ كُلَّ 10 نُجُومٍ ثُمَّ اكْمِلْ:



26 سِتَّةٌ وَعِشْرُونَ

ع	و
2	6
$26 = 10 + 10 + 6$	
$26 = 20 + 6$	

ع	و
.	.
. = . + . + .	
. = . + .	

ع	و
.	.
. = . + . + . + .	
. = . + .	

2 / اِرْبِطِ الْبِطَاقَاتِ الَّتِي تُمَثِّلُ نَفْسَ الْعَدَدِ:

$10 + 10 + 4$

تِسْعَةٌ وَعِشْرُونَ

$30 + 7$

$10 + 9$

أَرْبَعَةٌ وَعِشْرُونَ

19

$10 + 10 + 8$

سَبْعَةٌ وَثَلَاثُونَ

$30 + 2$

$10 + 10 + 10 + 7$

ثَمَانِيَةٌ وَعِشْرُونَ

$20 + 4$

$10 + 10 + 10 + 2$

إِثْنَانِ وَثَلَاثُونَ

$20 + 8$

## — مقارنة وترتيب الأعداد إلى 39 +

1 / اكتب العدد الذي يسبق والذي يلي مباشرة:

	30	
--	----	--

	29	
--	----	--

	20	
--	----	--

2 / لون البطاقة الصحيحة:

	أكثر من	
29	أقل من	39
	بقدر	

	أكثر من	
37	أقل من	30
	بقدر	

	أكثر من	
22	أقل من	31
	بقدر	

	أكثر من	
34	أقل من	34
	بقدر	

3 / رتب الأعداد التالية من الأصغر إلى الأكبر: 19 - 37 - 26 - 14 - 39 - 25


4 / أكمل كتابة الأعداد في الشريط العددي:

	26	28		32	35		39
--	----	----	--	----	----	--	----





# المرور إلى 10



1 / لاحظ ثم أكمل:



$10 = . + .$

$10 = . + .$

$10 = . + .$

$10 = . + .$

$10 = . + .$

2 / اكتب الأعداد التي تسبق والتي تلي مباشرة:

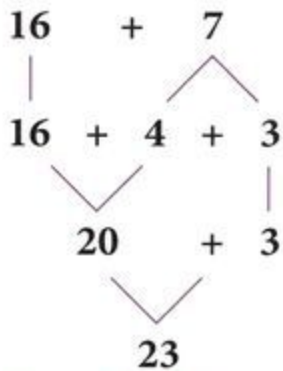
	10	
--	----	--

	19	
--	----	--

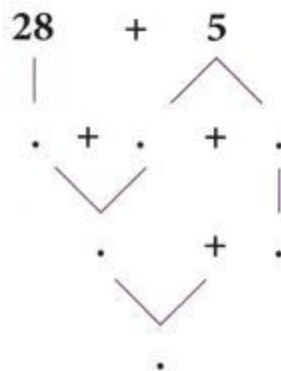
	29	
--	----	--

	30	
--	----	--

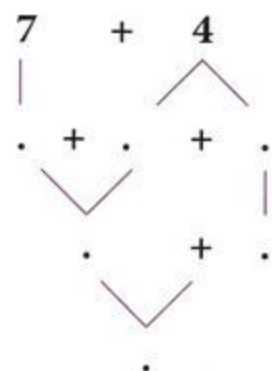
3 / أكمل كما في المثال:



$$\begin{aligned}
 16 + 7 &= 16 + 4 + 3 \\
 &= 20 + 3 \\
 &= 23
 \end{aligned}$$



$$\begin{aligned}
 28 + 5 &= . + . + . \\
 &= . + . \\
 &= .
 \end{aligned}$$



$$\begin{aligned}
 7 + 4 &= . + . + . \\
 &= . + . \\
 &= .
 \end{aligned}$$

5 / أحسب:

$$\begin{aligned}
 38 + 10 &= . \\
 38 + 20 &= . \\
 45 + 10 &= . \\
 45 + 20 &= .
 \end{aligned}$$

$$\begin{aligned}
 38 - 10 &= . \\
 38 - 20 &= . \\
 45 - 10 &= . \\
 45 - 20 &= .
 \end{aligned}$$

4 / املأ الفراغات:

$$\begin{aligned}
 25 + . &= 30 \\
 39 + . &= 40 \\
 43 + . &= 50 \\
 24 + . &= 40
 \end{aligned}$$

# + إضافة أو طرح أعداد صغيرة -

1 / أَحْسَبْ بِاسْتِعْمَالِ الشَّرِيْطِ الْعَدَدِيِّ:

9	10	11	12	13	14	15	16	17	18	19	20	21	22	23	24
---	----	----	----	----	----	----	----	----	----	----	----	----	----	----	----

$9 + 5 = .$

$18 - 4 = .$

$12 + 7 = .$

$19 - 6 = .$

$16 - 3 = .$

$23 - 8 = .$

2 / أَكْمِلِ النَّاقِصَ فِي الشَّرِيْطِ الْعَدَدِيِّ:

25					30						35					39
----	--	--	--	--	----	--	--	--	--	--	----	--	--	--	--	----

3 / اِرْبِطْ كُلَّ عَمَلِيَّةٍ بِنَتِيْجَتِهَا:

$17 - 10$

7

$10 - 5$

$8 - 4$

4

$13 - 6$

$12 - 7$

5

$24 - 20$

4 / أَحْسَبْ مَا يَلِي:

$12 + 4 = .$

$22 + 4 = .$

$7 + 5 = .$

$23 + 5 = .$

$16 + 4 = .$

$26 + 4 = .$

$5 + 7 = .$

$28 + 4 = .$






1 / أَكْمِلْ كِتَابَةَ الْأَعْدَادِ فِي الشَّرِيطَيْنِ الْعَدَدِيَيْنِ:

39					45					51			55
----	--	--	--	--	----	--	--	--	--	----	--	--	----

69				65				60				55
----	--	--	--	----	--	--	--	----	--	--	--	----

2 / أَحِطْ كُلَّ 10 فَرِيصَاتٍ ثُمَّ أَكْمِلْ:



ثَلَاثَةٌ وَخَمْسُونَ	53
-----------------------	----

--	--

--	--

ع	و
.	.
53 = 50 + 3	
53 = 10+10+10+10+10+3	

ع	و
.	.
. = . + .	
. = . + . + . + . + .	

ع	و
.	.
. = . + .	
. = . + . + . + . + . + .	

3 / اِرْبِطِ الْبِطَاقَاتِ الَّتِي تُمَثِّلُ نَفْسَ الْعَدَدِ:

ثَمَانِيَةٌ وَ سِتُونَ

55

4 عَشْرَاتٍ وَ 6 وَحَدَاتٍ

خَمْسَةٌ وَ خَمْسُونَ

46

6 عَشْرَاتٍ وَ 8 وَحَدَاتٍ

سِتَّةٌ وَ أَرْبَعُونَ

68

5 عَشْرَاتٍ وَ 5 وَحَدَاتٍ

4 / أَكْمِلِ السَّلَاسِلَ الْعَدَدِيَّةَ:

5	10	15					
---	----	----	--	--	--	--	--

8	18				
---	----	--	--	--	--



## مقارنة و ترتيب الأعداد إلى 69

1 / أكمل كتابة الأعداد لتكون متتالية:

	58		
--	----	--	--

			50
--	--	--	----

	39		
--	----	--	--

2 / أكمل بإحدى العبارات: أصغر من - أكبر من - يساوي:

$60 + 5 \dots\dots\dots 40 + 7$

$34 \dots\dots\dots 30$

$10 + 10 + 10 + 8 \dots\dots\dots 58$

$28 \dots\dots\dots 69$

$63 \dots\dots\dots 20 + 20 + 6$

$13 \dots\dots\dots 13$

$10 + 10 + 10 + 2 \dots\dots\dots 20 + 10 + 2$

$54 \dots\dots\dots 45$

3 / رتب الأعداد من الأكبر إلى الأصغر:

$43 - 24 - 61 - 49 - 13 - 31$


4 / رتب الأعداد من الأصغر إلى الأكبر:

$16 - 62 - 18 - 43 - 58 - 34 - 28 - 26$


## — مزج عدد إلى العشرة الموالية +

1 / أكْمِلِ الْمَجْمُوعَ وَالرَّسْمَ لِتَحْصُلَ عَلَى تَمَثِيلِ الْعَشْرَةِ الْمُوَالِيَةِ:



$$53 + \cdot = 60$$



$$35 + \cdot = 40$$



$$47 + \cdot = 50$$

2 / اَكْتُبِ يَمِينَ كُلِّ عَدَدِ الْعَشْرَةِ الْمُوَالِيَةِ لَهُ:

$$45 \longrightarrow \cdot$$

$$28 \longrightarrow \cdot$$

$$30 \longrightarrow \cdot$$

$$19 \longrightarrow \cdot$$

$$54 \longrightarrow \cdot$$

$$20 \longrightarrow \cdot$$

$$4 \longrightarrow \cdot$$

$$37 \longrightarrow \cdot$$

3 / لَوِّنِ الْمَجَامِيْعَ الَّتِي نَتِيْجَتُهَا عَدَدٌ كَامِلٌ مِنَ الْعَشْرَاتِ:

$$16 + 4$$

$$67 + 2$$

$$53 + 7$$

$$24 + 6$$

$$43 + 5$$

$$52 + 8$$

$$45 + 5$$

$$18 + 2$$

$$38 + 6$$

$$61 + 9$$

4 / اَكْمِلْ مَلَأَ الْفَرَاقَاتِ:

$$23 + \cdot = 30$$

$$58 + \cdot = 60$$

$$64 + \cdot = 70$$

$$19 + \cdot = 20$$

$$21 + \cdot = 30$$

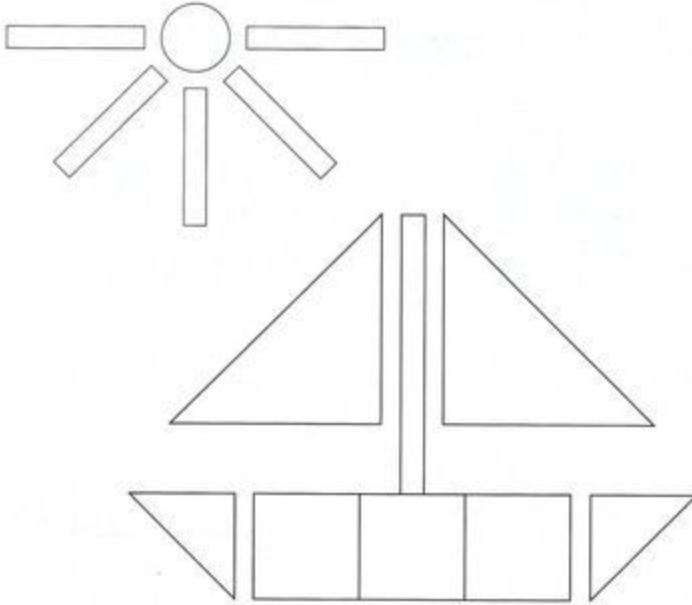
$$50 + \cdot = 60$$

$$47 + \cdot = 50$$

$$32 + \cdot = 40$$

$$35 + \cdot = 40$$

## — أشكال مسنوية، بسيطة أو مركبة +



1 / لَوْنِ الْمُثَلَّثَاتِ بِالْأَصْفَرِ

- وَالْمُرَبَّعَاتِ بِالْأَخْضَرِ

- وَالْمُسْتَطِيلَاتِ بِالْأَحْمَرِ

- وَالِدَّوَائِرَ بِالْأَزْرَقِ

ثُمَّ اكْمِلْ:

- عَدَدُ الْمُثَلَّثَاتِ هُوَ:

- عَدَدُ الْمُرَبَّعَاتِ هُوَ:

- عَدَدُ الْمُسْتَطِيلَاتِ هُوَ:

- عَدَدُ الدَّوَائِرِ هُوَ:

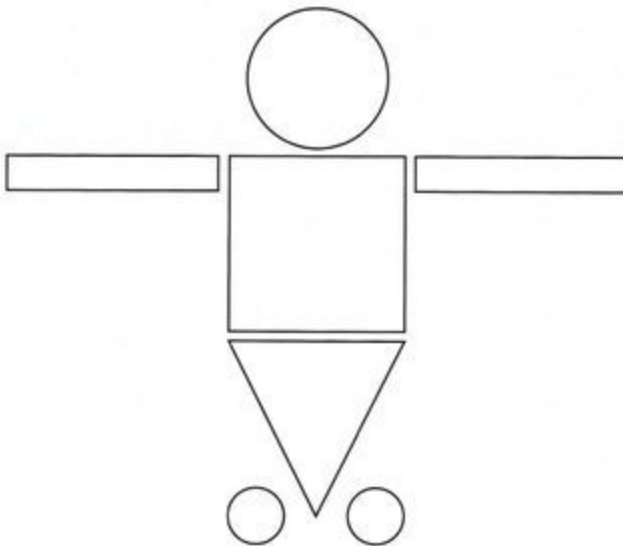
2 / مَنْ أَنَا؟

لَيْسَ لِي أَضْلَاعٌ وَلَا رُؤُوسٌ، أَنَا.....

لِي 4 أَضْلَاعٍ غَيْرُ مُتَسَاوِيَةٍ، أَنَا.....

لِي 3 رُؤُوسٍ، أَنَا.....

3 / ضَعِ ✗ أَمَامَ الْعِبَارَةِ الْخَاطِئَةَ.



- فِي أَعْلَى الشَّكْلِ دَائِرَةٌ

- تَحْتَ الدَّائِرَةِ مُثَلَّثٌ

- أَسْفَلَ الشَّكْلِ دَائِرَتَانِ اثْنَتَانِ

- يَمِينُ الْمُرَبَّعِ مُسْتَطِيلٌ

- يَسَارُ الْمُرَبَّعِ مُثَلَّثٌ





# الأعداد إلى 99



2 / اكتب الأعداد السابق والتالي مباشرة:

69	73
78	80
85	90

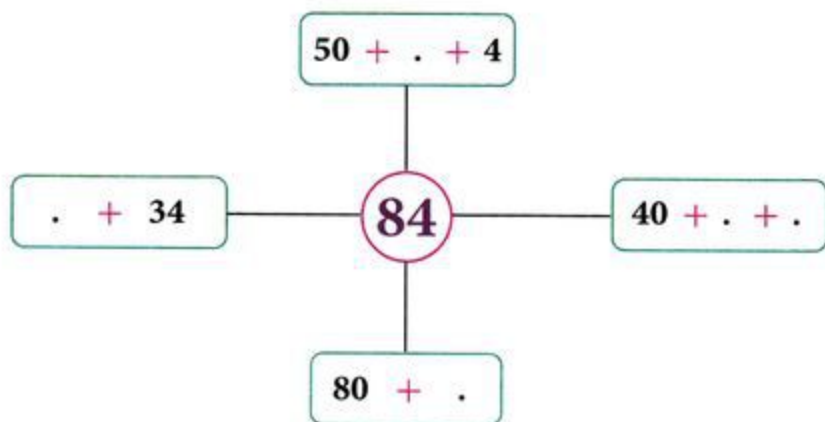
1 / لاحظ ثم أكمل الأشرطة العددية:

69	74	.	.	.	.	99
70	75	.	.	.	.	95
73	78					

3 / أكمل الناقص:

سبعة و تسعون	.	88	69
98	94	73	73
99	ستة و تسعون	.	خمسة و ثمانون

4 / أكمل:



5 / عند أحمد 25 دينارًا، أعطاه أبوه 52 دينارًا.

كم صار عند أحمد؟

# — الأعداد من 0 إلى 99 مقارنة أو ترتيب +

1 / لَوْنِ الْبَطَاقَةِ الصَّحِيحَةَ:

	أَصْغَرُ مِنْ	
77	أَكْبَرُ مِنْ	87
	يُسَاوِي	

	أَصْغَرُ مِنْ	
68	أَكْبَرُ مِنْ	64
	يُسَاوِي	

	أَصْغَرُ مِنْ	
22	أَكْبَرُ مِنْ	31
	يُسَاوِي	

	أَصْغَرُ مِنْ	
95	أَكْبَرُ مِنْ	93
	يُسَاوِي	

2 / رَتِّبِ الْأَعْدَادَ التَّالِيَةَ تَصَاعُدِيًّا: 45 - 69 - 73 - 23 - 58 - 97 - 15 - 87 - 37 - 79

<input type="text"/>	<input type="text"/>	<input type="text"/>	<input type="text"/>	<input type="text"/>	<input type="text"/>	<input type="text"/>	<input type="text"/>	<input type="text"/>	<input type="text"/>
----------------------	----------------------	----------------------	----------------------	----------------------	----------------------	----------------------	----------------------	----------------------	----------------------

3 / رَتِّبِ الْأَعْدَادَ التَّالِيَةَ تَرْتِيبًا تَنَازُلِيًّا: 83 - 33 - 49 - 78 - 9 - 34 - 55 - 22 - 99 - 67

<input type="text"/>	<input type="text"/>	<input type="text"/>	<input type="text"/>	<input type="text"/>	<input type="text"/>	<input type="text"/>	<input type="text"/>	<input type="text"/>	<input type="text"/>
----------------------	----------------------	----------------------	----------------------	----------------------	----------------------	----------------------	----------------------	----------------------	----------------------

4 / عِنْدَ أَحْمَدَ 57 قُرَيْصَةً.

وَعِنْدَ بِلَالٍ 87 قُرَيْصَةً.

مَنْ يَمْلِكُ قُرَيْصَاتٍ أَكْثَرَ؟ لِمَاذَا؟







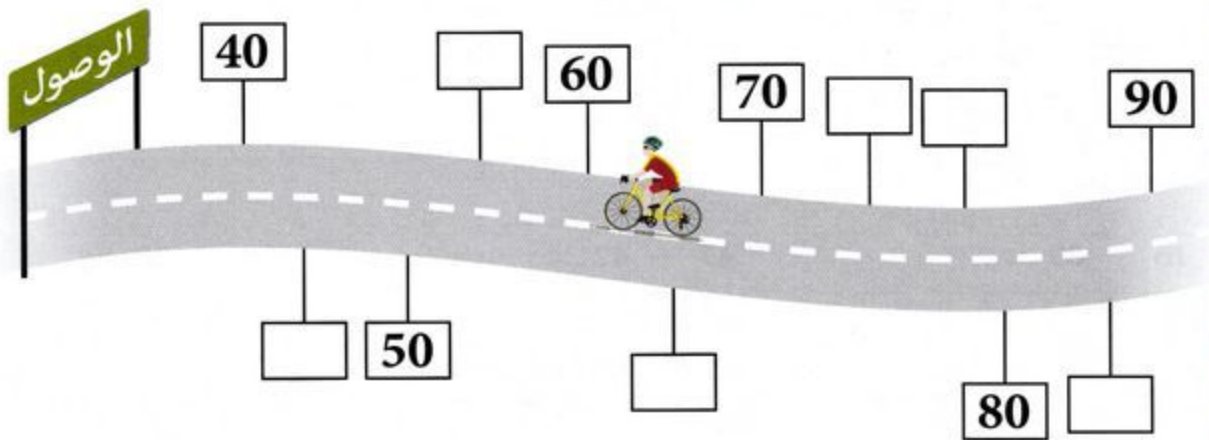
# حضر عدد



1 / أَكْمِلْ مَلءَ الْجَدْوَلِ:

العَشْرَةُ الَّتِي تَسْبِقُ	العَدَدُ	العَشْرَةُ الَّتِي تَلِي
	73	
	47	
	50	
	21	
	35	

2 / أَكْتُبْ هَذِهِ الْأَعْدَادَ فِي مَكَانِهَا الْمُنَاسِبِ: 51 - 72 - 43 - 66 - 84 - 75



3 / أَدْرِجْ عَدَدًا بَيْنَ كُلِّ عَدَدَيْنِ:

34 ..... 38

15 ..... 23

42 ..... 85

90 ..... 99

67 ..... 79

27 ..... 53

13 ..... 25

41 ..... 57

88 ..... 97



## المجسمات، المكعب، البلاطة



1 / اِرْبِطْ كُلَّ مُجَسِّمٍ بِاسْمِهِ:



هَرَمٌ

أُسْطُوَانَةٌ

مُكْعَبٌ

بَلَاطَةٌ قَائِمَةٌ

كُرَةٌ

2 / ضَعْ عِلَامَةً ✓ أَمَامَ الْعِبَارَةِ الصَّحِيحَةِ:

الْكُرَةُ تَتَدَخَّرُجُ

الْمُكْعَبُ يَتَدَخَّرُجُ

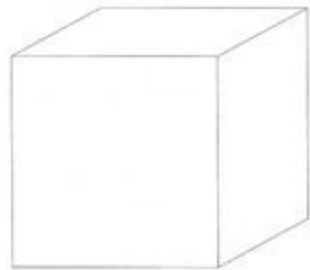
الْبَلَاطَةُ الْقَائِمَةُ لَهَا وُجُوهُ مُسْتَوِيَةٌ

كُلُّ وُجُوهِ الْأُسْطُوَانَةِ مُسْتَوِيَةٌ

مَرِّزْ عَلَى الْأَحْرَفِ بِالْأَحْمَرِ

لَوِّنِ الْأَوْجَةَ بِالْأَضْفَرِ

ضَعْ نِقَاطًا خَضِرَاءَ عَلَى الرَّؤُوسِ



3

ابْحَثْ عَنِ بَلَاطَةٍ قَائِمَةٍ فِي مُحِيطِكَ ثُمَّ اكْمِلْ:

لِلْبَلَاطَةِ الْقَائِمَةِ ..... وُجُوهُ و ..... رُؤُوسٍ و ..... حَزَفًا

4 / مَنْ أَنَا؟

عِنْدِي 6 وُجُوهُ مُتَشَابِهَةٍ، مَنْ أَنَا؟ .....

لَا أَمْلِكُ وُجُوْهَاً وَ أَتَدَخَّرُجُ، مَنْ أَنَا؟ .....

1 / اربط بالونًا لكل طفلٍ:

ضع علامة ✓ أمام العبارة الصحيحة:



عدُّ البالونات بقدرِ عددِ الأطفالِ.

عدُّ البالونات أكثرُ من عددِ الأطفالِ.

عدُّ البالونات أقلُّ من عددِ الأطفالِ.

2 / اربط لعبةً لكلِ صبيٍّ:

ضع علامة ✓ أمام العبارة الصحيحة:




عدُّ اللعبِ بقدرِ عددِ الصبيانِ.

عدُّ اللعبِ أكثرُ من عددِ الصبيانِ.


عدُّ اللعبِ أقلُّ من عددِ الصبيانِ.

3 / لَوْنِ الجَزَرَ بِقَدْرِ ما يوجدُ مِنَ الأرابِيبِ:






4 / لَوْنِ 4 أُورَاقٍ تُمَّ لَوْنِ أَزْهَارًا أَكْثَرَ مِمَّا لَوْنَتْ مِنَ الْأُورَاقِ:



5 / لَوْنِ 5 أَزْهَارٍ تُمَّ لَوْنِ فَرَاشَاتٍ أَقَلَّ مِمَّا لَوْنَتْ مِنَ الْأَزْهَارِ:



6 / أَكْمِلِ رَسْمَ حَبَاتِ الْمَوْزِ بِقَدْرِ عَدَدِ الْقَرَدَةِ:



يمين - يسار

1 / لَوْنِ بِالْأَخْضَرِ الْهِلَالَ الَّذِي يَقَعُ يَمِينِ النَّجْمَةِ، لَوْنِ بِالْأَحْمَرِ الْهِلَالَ الَّذِي يَقَعُ يَسَارِ النَّجْمَةِ:



2 / اكْمِلْ حَسَبَ الشَّكْلِ:

3 يَمِينِ .....

9

3

5

7

4

4 يَمِينِ .....

3 يَسَارِ .....

3 يَسَارِ .....

4 / لَوْنِ الْكُتُبِ الَّتِي تَقَعُ يَمِينِ الْوَلَدِ بِالْأَخْضَرِ  
لَوْنِ الْكُتُبِ الَّتِي تَقَعُ يَسَارِ الْوَلَدِ بِالْأَحْمَرِ:

3 / لَوْنِ الْكُتُبِ الَّتِي تَقَعُ يَمِينِ الْوَلَدِ بِالْأَزْرَقِ  
لَوْنِ الْكُتُبِ الَّتِي تَقَعُ يَسَارِ الْوَلَدِ بِالْأَصْفَرِ:




+

## مقارنة أطوال

-

أقصر من - أطول من

/ / لَوْنٌ أَطْوَلُ جِسْمٍ:





## /2 رَتِّبِ الْأَقْلَامَ الْمُلَوَّنةَ مِنَ الْأَقْصَرِ إِلَى الْأَطْوَلِ بِاسْتِعْمَالِ الْأَرْقَامِ

• لَوِّنِ الْبِطَاقَاتِ الصَّحِيحَةَ

القَلَمُ  
الأخْمَرُ

أَطْوَلُ مِنْ

القَلَمُ  
الْوَرْدِيُّ

أَقْصَرُ مِنْ

القَلَمُ  
الْبُرْتَقَالِيُّ

أَطْوَلُ مِنْ

القَلَمُ  
الأَضْفَرِيُّ

أَقْصَرُ مِنْ

القَلَمُ  
الأَزْرَقِيُّ

أَطْوَلُ مِنْ

القَلَمُ  
الْبَنَفْسَجِيُّ

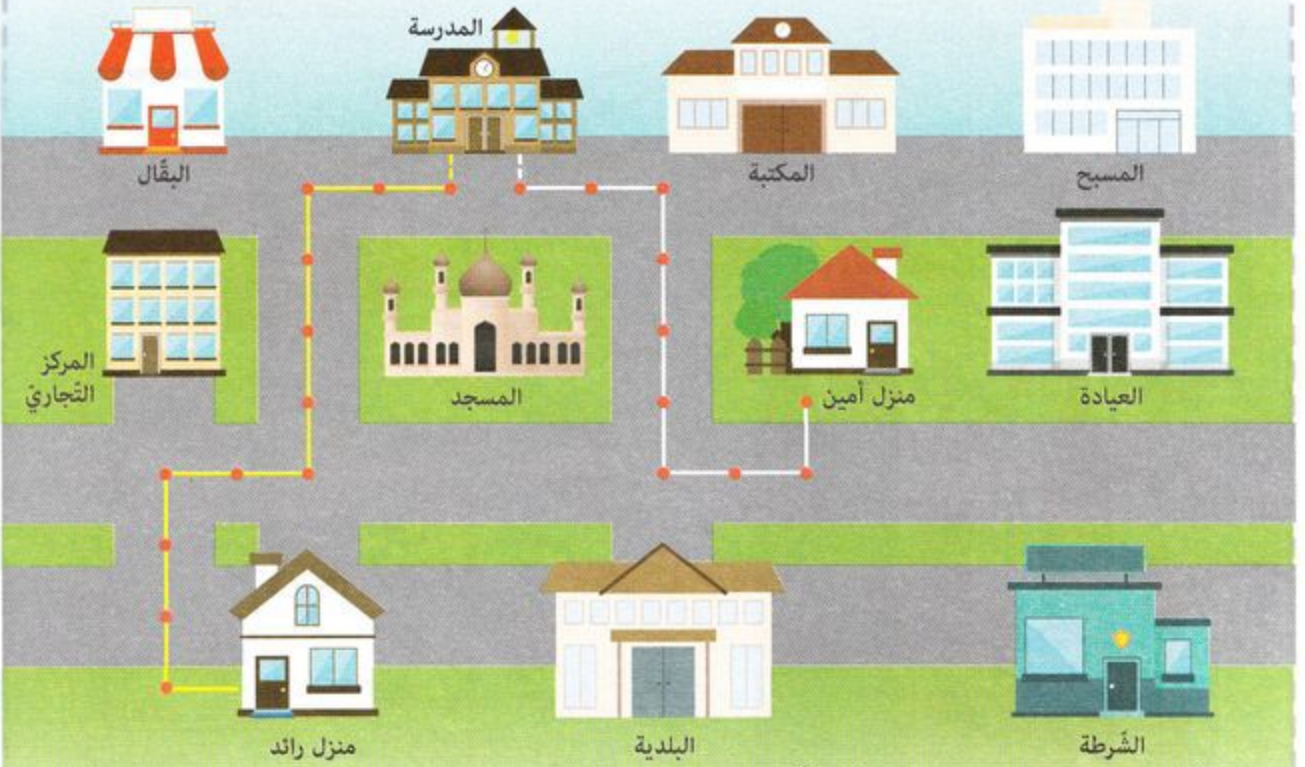
أَقْصَرُ مِنْ



## /3 لَوِّنِ الْقَلَمَيْنِ اللَّذَيْنِ لَهُمَا نَفْسُ الطُّولِ:




4 / لَاحِظْ مَسَلَّتْ كُلِّ مِّنْ رَّائِدٍ وَ أَمِينٍ لِلْوَصُولِ إِلَى الْمَدْرَسَةِ:



يَقْطَعُ رَائِدٌ ..... يَقْطَعُ أَمِينٌ .....

- مَنْ يَصِلُ الْأَوَّلُ إِلَى الْمَدْرَسَةِ: رائد أمين


5 / سَاعِدْ مَهْدِي لِيَصِلَ إِلَى الْمَنْزِلِ:





فوق - تحت - على - أسفل - أسفل




/1 لَوْنِ مَا:



- على الطَّائِلَةِ بِالْبَيْتِ.
- فَوْقَ الطَّائِلَةِ بِالْأَزْرَقِ.
- تَحْتَ الطَّائِلَةِ بِالْأَصْفَرِ.




/2 لَوْنِ الْحَيَوَانَاتِ أَعْلَى الْخَطِّ بِالْأَحْمَرِ وَأَسْفَلَ الْخَطِّ بِالْأَخْضَرِ.






أمام - وراء - بجانب - مقابل - بين


1/ لَوْنُ مَا يُوجَدُ وَرَاءَ الدَّجَاجَةِ بِالْبَيْتِ، وَ مَا يُوجَدُ أَمَامَهَا بِالْأَصْفَرِ:



2/ لَوْنُ مَا يُوجَدُ بَيْنَ النَّجْمَةِ وَالْهَيْلَالِ:



3/ ضَعْ عِلَامَةً ✓ أَمَامَ الْعِبَارَةِ الصَّحِيحَةِ:



- التِّلْفَازُ مُقَابِلَ الْعَائِلَةِ
- الْوَلَدُ بِجَانِبِ الْأُمِّ
- الْوَلَدُ بِجَانِبِ الْأَبِّ
- الْوَلَدُ بَيْنَ الْأَبِّ وَالْأُمِّ