

السلسلة الأولى



3 أربط بسنهم وألوان بنفس اللون:

خمس

• 2

أربعة

• 5

اثنان


• 1

واحد

• 4




1 ألوان الرقم ثلاثة "3"



4 ألوان حسب المطلوب:



2 ألوان الأعداد المتشابهة بنفس اللون:



5 اكتب:



1: - - - - -

- - - - -

- - - - -

واحد:

السلسلة الثانية



3 أربط بسنهم وألوان بنفس اللون:

- | | |
|----------|-----|
| • ثلاثة | • 0 |
| • ثمانية | • 8 |
| • سبعة | • 3 |
| • صفر | • 7 |

1 اكمل حتى أحصل على أعداد متتالية


1 2 3 4 5

...	...	6		0
...	4		3
5		2

4 أربط بسنهم نفس الأشكال:




2 ألون خمسة ثقافات بالأخضر كما في المثال:



5 لون بالأخضر أقصر طريق لكي يصل القرد إلى المؤزة:



1
2



السلسلة الثالثة




1 ألون حسب اللون المطلوب:




- 1
- 2
- 3
- 4
- 5


3 لون خانة العدد الصحيح:



2 6 1



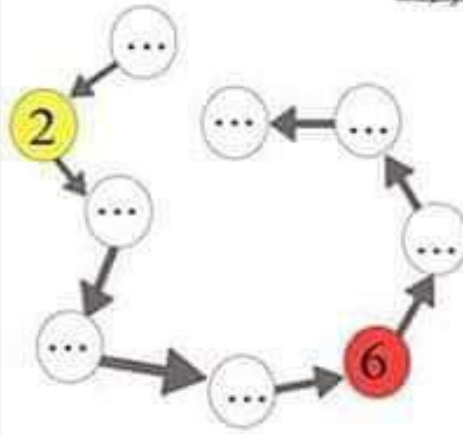
4 2 8



5 1 0

2 أكمل كتابة الأعداد مرتبة في الأفراس والونها

كما في الجدول المقابل:



7	Yellow
5	Yellow
2	Yellow
1	Green
3	Green
4	Green
9	Green
6	Red
8	Red

4 ازبط بسهم وألون بنفس اللون:

إثنان

6

ثمانية

9

سبعة

2

تسعة

8

5 أتمم الشريط بالترتيب:

..... - سبعة - - - أربعة -

Hind Elb

6 اكتب:

..... - - - - - :2



السلسلة الرابعة



3 أرتب الأرقام من الأصغر إلى الأكبر:

8 4 9	5 1 6	0 7 3
3 2 8	7 0 1	4 5 2

1 ألون الرقم ثمانية "8":

4 أربط بينهم الأشكال المتشابهة وألون:

	•	•	
	•	•	
	•	•	
	•	•	

2 لاحظ وأكمل الأعداد:

...
4	5
...	4
...	5	...
1	2	...	4	...

...
...
...	3
4	4	...
...	5	5	5	...

5 ألون أقصر طريق للنحلة لتصل إلى الزهرة وألونه حسب رقم الطريق:

السلسلة الخامسة



3 أرْتبِ الأَرْقَامَ مِنَ الأصْغَرِ إِلَى الأَكْبَرِ:

7 8 5	1 0 3	2 9 1
4 7 0	5 3 2	6 4 9

1 أضْعِ عَلامَةَ (x) أَمَامَ الجَوَابِ الصَّحِيحِ:

لا	نَعْم
<input type="checkbox"/>	<input type="checkbox"/>
<input type="checkbox"/>	<input type="checkbox"/>

الطَّعامُ تَحْتَ الطَّاوِلَةِ.
الطَّعامُ فَوْقَ الطَّاوِلَةِ.



4 اشْطَبِ عَلَى الشَّكْلِ الدَّخِيلِ:

□	☆	□	□	□	□
●	●	●	●	⬠	●
▲	▲	▲	▲	▲	○
●	◆	◆	◆	◆	◆

2 اَبْحَثْ عَنِ الرِّقْمِ خَمْسَةَ (5) وَالأَوْنَةِ:

8	9	5	0	5
5	3	9	8	7
9	9	0	5	3
3	0	5	3	5
5	7	2	7	7
2	5	7	2	2
7	3	5	2	2

5 اَكْتُبِ:


3:

ثَلَاثَةٌ:

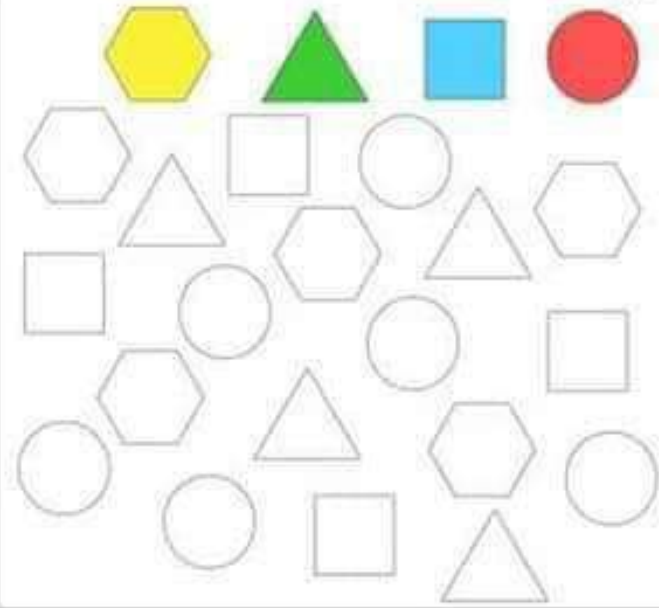


-	-	-	-	-	-
-	-	-	-	-	-
-	-	-	-	-	-

السلسلة السادسة



2 ألون الأشكال حسب اللون المطلوب:



1 احسب عدد الأشياء وأصل بالرقم الصحيح:




• 7 •



• 4 •



• 2 •



• 5 •




• 8 •



• 1 •




• 6 •



• 3 •

3 أرتب من الأقصر إلى الأطول:



4 ألون أقصر طريق لأخذ وسلّمى ليصلا بسُرعة إلى المدرسة وألونه حسب رقم الطريق:




1
2
3



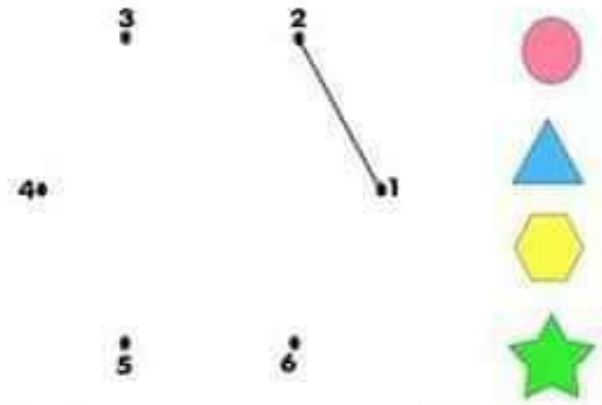
السلسلة السابعة



3 ألون بالأصفر بطاقة الرقم الصحيح:



1 أربط بالمنظرة الأزرق من الأصغر إلى الأكبر، وألون الشكل باللون المناسب:



2 اضع علامة (x) أمام الجواب الصحيح:



لا	نعم	
<input type="checkbox"/>	<input type="checkbox"/>	الدفتر فوق الطاولة:
<input type="checkbox"/>	<input type="checkbox"/>	المسحاة فوق الطاولة:
<input type="checkbox"/>	<input type="checkbox"/>	المنظرة تحت الطاولة:
<input type="checkbox"/>	<input type="checkbox"/>	المقص تحت الطاولة:
<input type="checkbox"/>	<input type="checkbox"/>	المنظرة فوق الطاولة:

4 اكتب:



4 : - - - - -

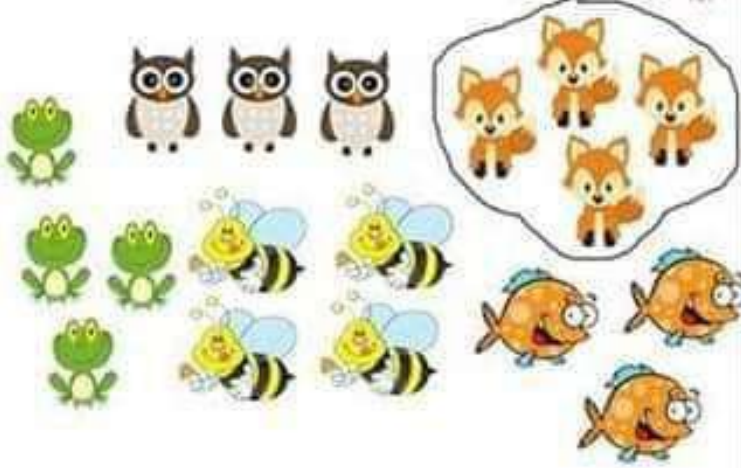
- - - - -

أربعة :

السلسلة الثامنة



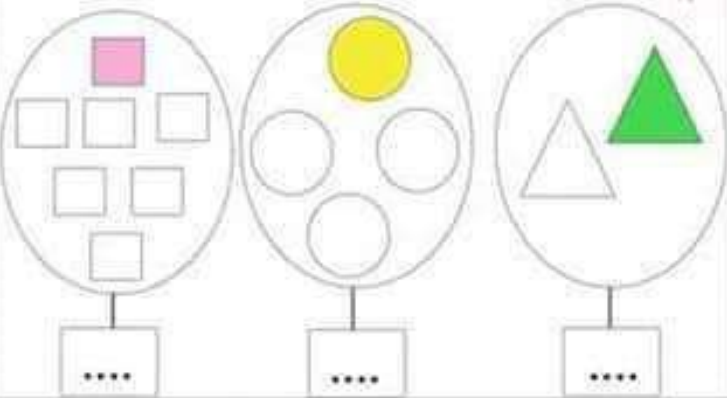
3 أحيط كل نوع من الحيوانات بـحيز مغلق:



1 ألون الرقم واخذ (1):



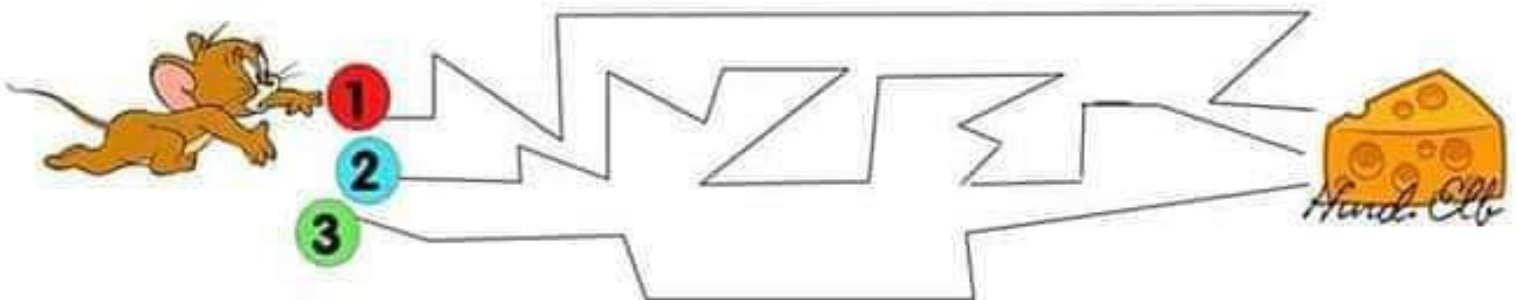
4 اكتب عدد كل شكل، واكمل التلوين:



2 ألون التفاحة التي على يمين سلمى بالأخضر
واللون التفاحة التي على يسارها بالأحمر:

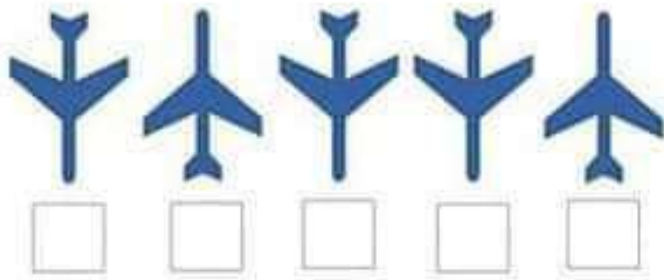


5 ألون أقصر طريق للفأر ليصل إلى الجبن وألونه حسب رقم الطريق:



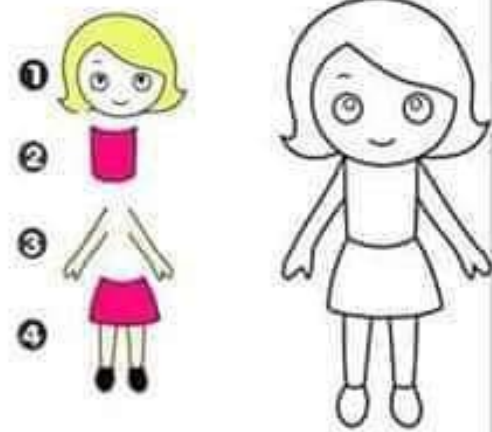
السلسلة التاسعة

3 اصنع ↑ أمام الطائرة المُتَّجِهَة للأعلى، و ↓ أمام الطائرة المُتَّجِهَة نحو الأسفل:




1 ألون أعضاء الجسم باللون المناسب وأصلب بينهم:

- اليدين
- الرأس
- القطنين
- الجذع




4 أكمل بالترتيب:



2 • ألون باللون الأحمر النجوم الموجودة على يمين الزرافة
• وباللون الأصفر النجوم الموجودة على يسارها:
• ألون باللون الأزرق المربعات الموجودة على يمين الزرافة:
• وباللون الأخضر المربعات الموجودة على يسارها:



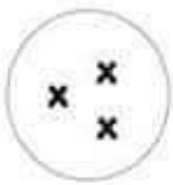
5 ألون أقصر طريق للسَّمَكَة لِتَصِلَ إِلَى أَمِّهَا وَأَلَوْنُهُ حَسَبَ رَقْمِ الطَّرِيقِ:



السلسلة العاشرة



3 أصل بينهم:



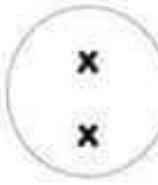
2



7



3

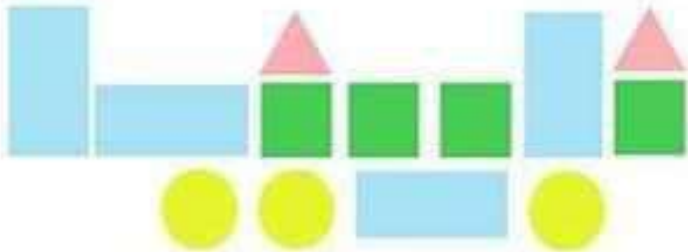


4

1 ألوّن الرقم اثنان (2):



4 الأخط ثم أعمل الجدول:



****	****	****	****	2

2 الأخط ثم أعمل رسم الفوايز وألوّن:

8	
2	
5	

5 أكتب:

5:

خمس




السلسلة الجادية عشرة

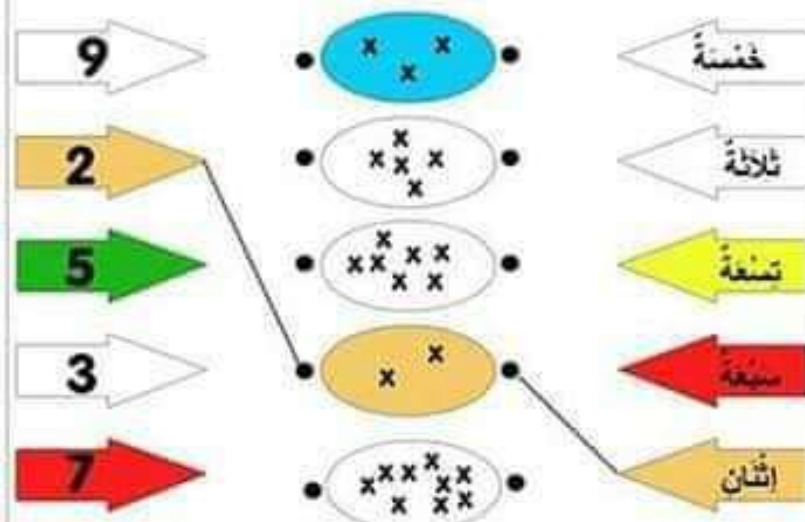
Hind Elb



1 ألون 4 سمكات بالأزرق و 5 سمكات بالأخضر:



3 الأخط وأكمل:

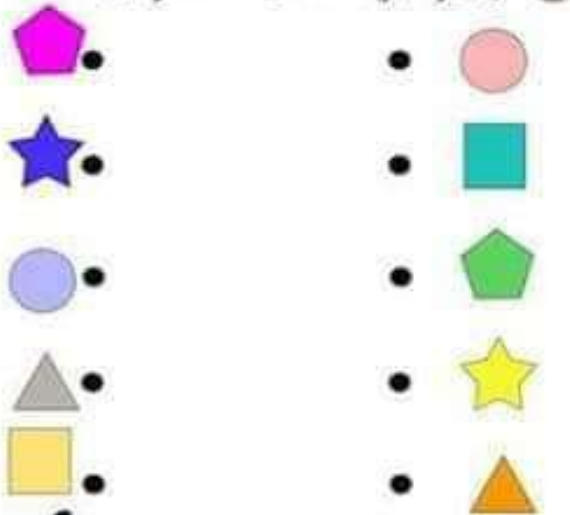


2 اجب بنعم او لا:

- نعم لا
- الكلب أمام الشجرة
 - الشجرة أمام الكلب
 - الكلب خلف الشجرة
 - الشجرة خلف الكلب



4 اصل بمتهم الأشكال المتشابهة:



5 اكتب:

6:

سبعة:



السلسلة الثانية عشرة



3 ألون الخاتة الصحيحة حسب ألون العطلوب:

واحد	سبعة	اثنان	تسعة	7
خمس	ثمانية	سبعة	صفر	0
ثلاثة	اربعة	تسعة	خمس	3
صفر	ثمانية	سبعة	سبعة	8
تسعة	ثلاثة	اثنان	واحد	2
سبعة	سبعة	اربعة	خمس	5

1 ألون الرقم اربعة (4):



2 اصل بسنهم:



4 اكمل الجدول:

العند الذي قبله	
.....	4
.....	1
.....	9
.....	2


العند الذي بعده	
8
3
5
6

5 اصل بسنهم:

- الفناء تجلس
- الكرّة
- يقف الولد
- أمام السيّارة.
- خلف الولد.
- فوق الكرسي.



السلسلة الثالثة عشرة

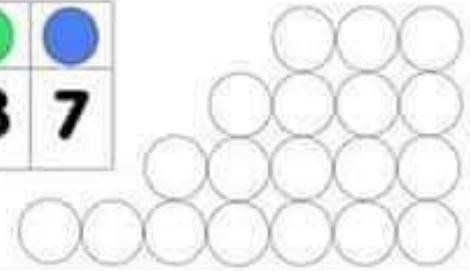


3 أضغ علامة (x) على الخاسية التي تُعَبِّلُهَا كُلُّ صُورَةٍ:



1 ألاحظ الجدول وألون الأقرص:

0	4	5	3	7



2 أخط العناصر حسب العدد المطلوب:

- 3
- 7
- 5
- 2
- 4
- 1

4 اكتب:

: 7



السلسلة الرابعة عشرة

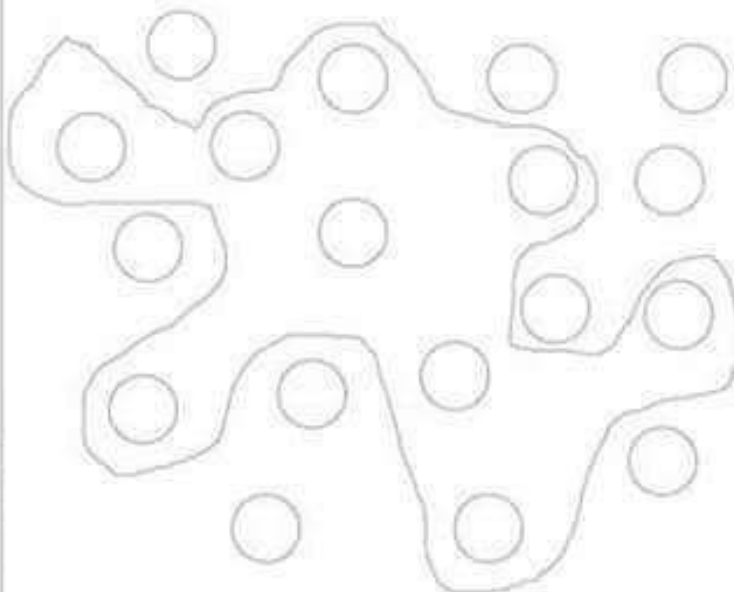


3 ألون الجواب الصحيح -نعم- أو -لا-:



- | | | |
|--------------------------|-----|-------------------------|
| <input type="checkbox"/> | نعم | الكرة أمام الساعة |
| <input type="checkbox"/> | نعم | الساعة وراء القلم |
| <input type="checkbox"/> | نعم | الكرة بين الساعة والقلم |
| <input type="checkbox"/> | نعم | الكرة خلف القلم |
| <input type="checkbox"/> | نعم | الساعة أمام القلم |
| <input type="checkbox"/> | نعم | القلم خلف الكرة |
| <input type="checkbox"/> | نعم | الكرة بين الساعة والقلم |

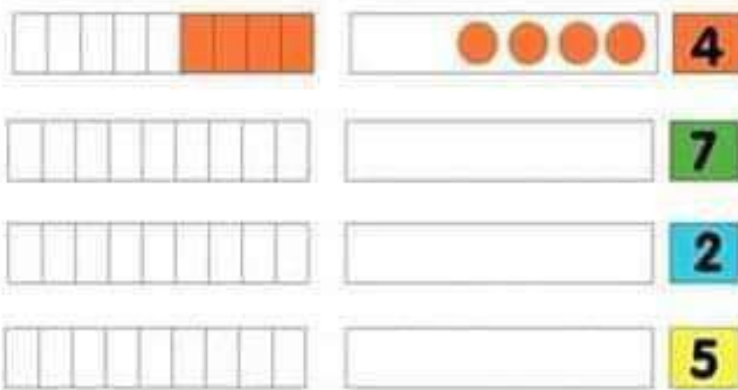
1 ألون الكريات الموجودة داخل الخيزبألون الأحمر
ألون الكريات الموجودة خارج الخيزبألون الأزرق



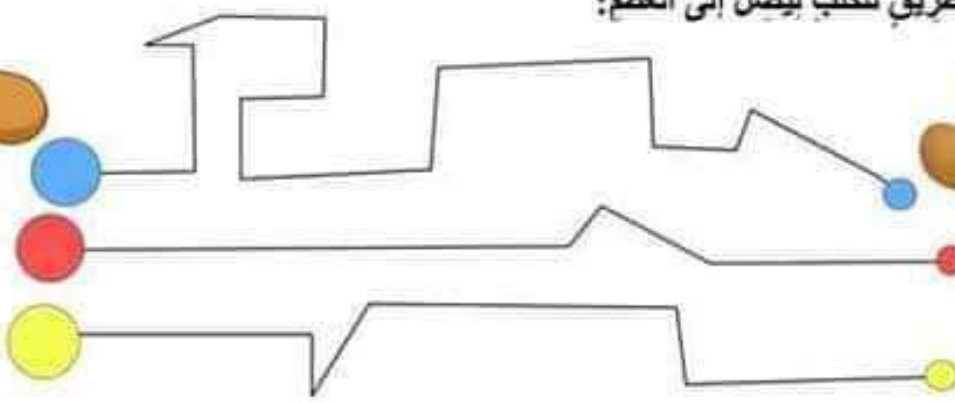
4 اخبب:



2 ألاحظ العثال وارسم وألون:



5 ألون أقصر طريق للكلب ليصل إلى العظم:



السلسلة الخامسة عشرة +



3 أكمِل السلسلة بالترتيب وألوان:

1 ألوان الرقم سبعة (7):

4 أصل بينهم الخاسة المناسبة:

- السفع
- البصر
- الدوق
- اللسن
- الشم
- مذاق الخلوى لذيذ جداً
- ما أجمل هذا المنظر
- لا أسغتك جيداً
- كم هي جميلة رائحة هذه الزردة
- هذا القطن ناعم

2 أرسم عدد الأشكال المطلوبة وألوانها:



5 اكتب:

:8

ثمانية:

السلسلة السادسة عشرة



3 ألون حسب الغدد المطلوب باللون المناسب:

						9
						7
						6
						8

1 ألاحظ الأشياء المتشابهة وأكمل الجدول:

5		

4 اصل بينهم:

العين		اسمع
اليَد		أنظر
الفم		أندوق
الأنف		اشم
الأذن		البعس

2 اجيب بنعم أو لا بتلويين الجواب الصحيح:

القطة فوق الرفافة نعم لا

الصندوق تحت الرفافة نعم لا

القطة أمام الصندوق نعم لا

الرفافة فوق الصندوق وأمام القطة نعم لا

الرفافة فوق الصندوق وخلف القطة نعم لا

الصندوق خلف القطة نعم لا

القطة تحت الصندوق نعم لا






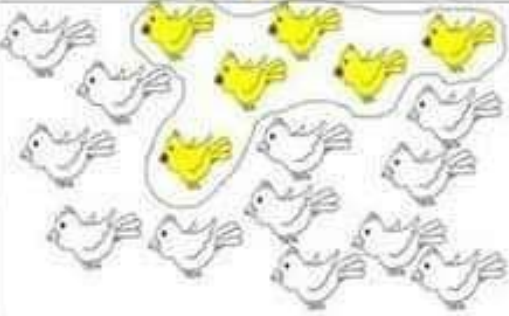
5 ألون أقصر طريق لسيارة الإسعاف لتصل إلى المستشفى وألونه حسب رقم الطريق:

Hind. Elb



السلسلة السابعة عشرة



1 ألون حسب العدد المطلوب وأضعها في خيز:

 4	 7	 5
		

2 ازسّم وألّون:

 9	 6	 8

3 اكتب:

9:

— — — — — — — — — —

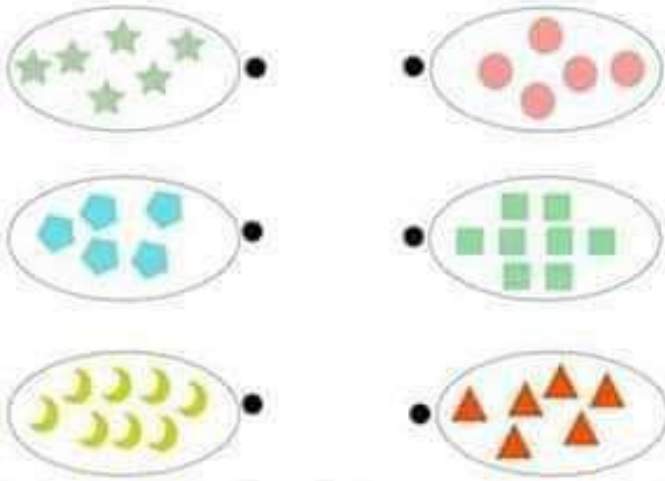
تسعة:

— — — — — — — — — —

السلسلة الثامنة عشرة



3 أربط مجموعة العناصر التي لها نفس عدد العناصر:




1 املؤ الفراغ بما يناسب: تحت - فوق.



- التفاحة الطاولة.
- الضفدعة الطاولة.
- الطاولة الضفدعة.

4 ألون الأشكال المتطابقة لكل مثال:



2 ألون الرقم ستة (6)



5 ابحث عن 10 اختلافات بين الصورتين واضع عليها دائرة:

